






PENSAMIENTO MATEMÁTICO

| | |
|---|-------------------|
|  | Nombre: |
|  | Curso: |
|  | Fecha: 09-04-2020 |

Orientaciones temporales

Día – Noche

- Menciona las acciones que realizas durante el día y las que realizas en la noche.
- Dibuja con la ayuda de un adulto, imprime o recorta 1 acción que realizas de día (cuadro del sol.)
- Dibuja con la ayuda de un adulto, imprime o recorta 1 acción que realizas de noche (cuadro de la luna.)

| | |
|--|--|
|  Día |  Noche |
|--|--|